



# Atividades extras

Revisão  
4º ano



## Revisando

### História

Responda:

1) O que o governo brasileiro fez para promover o povoamento na região Sul?

---

---

---

2) Cite alguns costumes trazidos pelos imigrantes e suas origens?

---

---

---

3) O café é originário de onde? E quando ele foi introduzido no Brasil?

---

4) Em que países o consumo do café começou a aumentar?

---



# Atividades extras

Revisão  
4º ano



## MATEMÁTICA

1. Decomponha os seguintes números (um,c,d,u)

a) 1. 672 -

---

---

b) 9. 803

---

---

c) 9.999

---

---

d) 7.468

---

---

2. Companha os seguintes números.

a)  $1.000 + 200 + 30 + 8 =$  \_\_\_\_\_

b)  $1.000 + 800 + 40 =$  \_\_\_\_\_

c)  $6.000 + 100 + 50 =$  \_\_\_\_\_

d)  $8.000 + 90 + 32 =$  \_\_\_\_\_



# Atividades extras

Revisão  
4º ano



3. Some 5 parcelas para chegar aos seguintes resultados:

a) \_\_\_\_\_ + \_\_\_\_\_ + \_\_\_\_\_ + \_\_\_\_\_ + \_\_\_\_\_ = 180

b) \_\_\_\_\_ + \_\_\_\_\_ + \_\_\_\_\_ + \_\_\_\_\_ + \_\_\_\_\_ = 95

d) \_\_\_\_\_ + \_\_\_\_\_ + \_\_\_\_\_ + \_\_\_\_\_ + \_\_\_\_\_ = 282

e) \_\_\_\_\_ + \_\_\_\_\_ + \_\_\_\_\_ + \_\_\_\_\_ + \_\_\_\_\_ = 90

4. Subtraia 3 parcelas de cada número até chegar ao resultado zero.

a)  $95 - \underline{\hspace{2cm}} - \underline{\hspace{2cm}} - \underline{\hspace{2cm}} = 0$

b)  $250 - \underline{\hspace{2cm}} - \underline{\hspace{2cm}} - \underline{\hspace{2cm}} = 0$

c)  $800 - \underline{\hspace{2cm}} - \underline{\hspace{2cm}} - \underline{\hspace{2cm}} = 0$

d)  $73 - \underline{\hspace{2cm}} - \underline{\hspace{2cm}} - \underline{\hspace{2cm}} = 0$

e)  $90 - \underline{\hspace{2cm}} - \underline{\hspace{2cm}} - \underline{\hspace{2cm}} = 0$

5. Complete com falso ou verdadeiro.

a) O maior número com 2 algarismos é o 99? \_\_\_\_\_

b) O menor número que podemos escrever com 3 algarismos é o 111? \_\_\_\_\_

c) 15 quilômetros é o mesmo que 1.500 metros?  
\_\_\_\_\_

d)  $\frac{1}{2}$  km tem 500 metros? \_\_\_\_\_

e) 1 quilograma tem 50 gramas? \_\_\_\_\_

f) 5 gramas possuem 5.000 miligramas? \_\_\_\_\_



# Atividades extras

Revisão  
4º ano



6. Transforme as medidas para as unidades solicitadas.

a) 1 tonelada a quilogramas = \_\_\_\_\_

b) 2 quilos a grama = \_\_\_\_\_

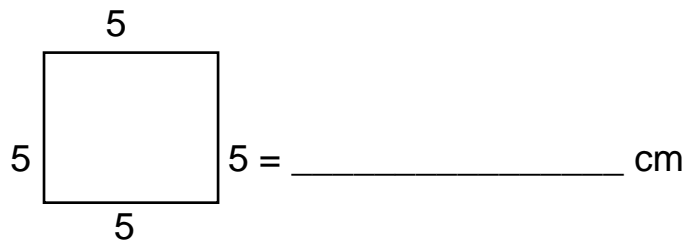
c) 5 quilômetros a metros = \_\_\_\_\_

d) 7 metros a centímetros = \_\_\_\_\_

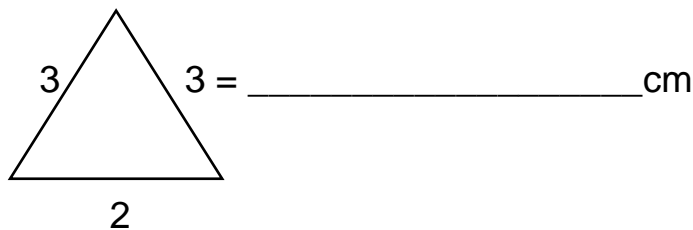
e) 3 gramas a miligramas = \_\_\_\_\_

7. Calcule o perímetro das figuras:

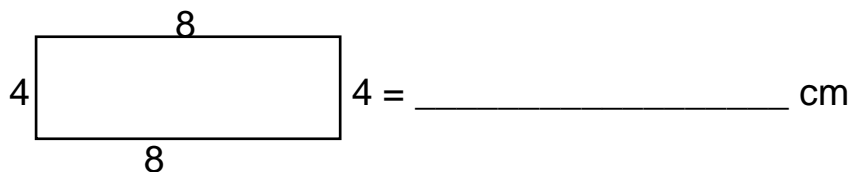
a)



b)



c)





# Atividades extras

Revisão  
4º ano



8. Resolva os problemas

a) Um caminhão transporta 5 toneladas de mercadorias em uma viagem. Quantos quilos ele transportará em duas(2) viagens?

s. m

cálculo

R. \_\_\_\_\_

b) Paulo vende copos descartáveis por centena. Um de seus clientes fez uma encomenda de 77 centenas. Quantas unidades esse cliente deverá receber?

s. m

cálculos

R. \_\_\_\_\_

c) Uma papelaria, em janeiro, tendo em vista o início das aulas comprou uma remessa grande de cadernos. Ao receber a encomenda, a papelaria recebeu 2 caixas de 1.000 cadernos, 3 caixas de 100 cadernos, 2 pacotes de 10 cadernos. Quantos cadernos a papelaria comprou?

s.m

cálculos



# Atividades extras

Revisão  
4º ano



Resposta: \_\_\_\_\_

d) Em uma cesta há 21 laranjas e na outra há 13 laranjas. Quantas laranjas devem ser passadas de uma cesta a outra para que as duas fiquem com a mesma quantidade de laranjas?

s.m

cálculos

Resposta=\_\_\_\_\_

## PORTUGUÊS

1. Conjugue o verbo **beber** nos três tempos do modo indicativo.

Presente	Pretérito	Futuro
Eu _____	_____	_____
Tu _____	_____	_____
Ele _____	_____	_____
Nós _____	_____	_____
Vós _____	_____	_____
Eles _____	_____	_____



# Atividades extras

Revisão  
4º ano



2. Complete com 5 palavras em cada grupo.

Ditongo

\_\_\_\_\_

\_\_\_\_\_

\_\_\_\_\_

\_\_\_\_\_

\_\_\_\_\_

Tritongo

\_\_\_\_\_

\_\_\_\_\_

\_\_\_\_\_

\_\_\_\_\_

\_\_\_\_\_

Hiato

\_\_\_\_\_

\_\_\_\_\_

\_\_\_\_\_

\_\_\_\_\_

\_\_\_\_\_

3. Passe para o plural as palavras.

a) prato \_\_\_\_\_

b) gato \_\_\_\_\_

c) balão \_\_\_\_\_

d) pudim \_\_\_\_\_

e) carretel \_\_\_\_\_

**Escola Nazaré Campo Grande**

Rua Antônio Neves de Azevedo, 50 – Fone (67) 3385.2268 - [www.escolanazarecg.com](http://www.escolanazarecg.com)



# Atividades extras

Revisão  
4º ano



f) colher \_\_\_\_\_

g) galho \_\_\_\_\_

h) pastel \_\_\_\_\_

i) balde \_\_\_\_\_

4. Complete com dois substantivos derivados

a) Pedra \_\_\_\_\_, \_\_\_\_\_

b) Pão \_\_\_\_\_, \_\_\_\_\_

c) Chuva \_\_\_\_\_, \_\_\_\_\_

d) Flor \_\_\_\_\_, \_\_\_\_\_

e) Vento \_\_\_\_\_, \_\_\_\_\_

f) Sapato \_\_\_\_\_, \_\_\_\_\_

5. Assinale com X a alternativa correta

1) Hoje eu canto, amanhã...

a) ( ) cantará

b) ( ) cantaste

c) ( ) cantei

d) ( ) cantarei





# Atividades extras

Revisão  
4º ano



2) Qual palavra apresenta grafia correta

- a) ( ) goela
- b) ( ) guela
- c) ( ) guelha
- d) ( ) guiela

3) Em qual grupo apresenta só oxítona?

- a) ( ) boneca - balde - café
- b) ( ) boné - rapé - chulé
- c) ( ) rampa - matemática - escola
- d) ( ) também - rede - remédio